


3. SINIF

7. HAFTA KAZANIM DEĞERLENDİRME



1. Görseli verilen varlıklardan hangisi sözlükte diğerlerinden önce gelir?



2.

Masallarda geçen, çok iri ve korkunç yaratık.

Yukarıda sözlük anlamı verilen kelime aşağıdakilerden hangisidir?

- A) dinozor
B) hayalet
C) dev

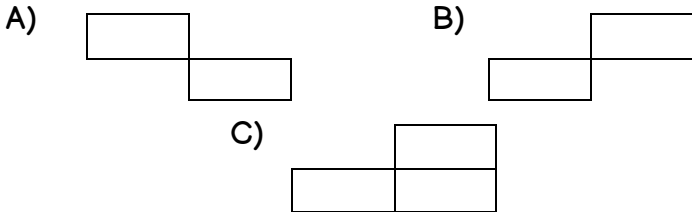
3. Aşağıdaki şıkların hangisinde verilen seslerin tümü ünlü harftir?

- A) a,e,i,i,o,ö,u,ü,
B) ı,i,o,ö,p,r,s,t
C) k,l,m,n,o,ö,p,r

4.

yanlız	aferin
tıraş	eylence

Tabloda yazım yanlışı yapılan kelimelerin bulunduğu kutular çıkartılırsa hangi şekil oluşur?



5. "İki ihtiyar taburede oturmuş sohbet ediyordu." cümlesinde altı çizili sözcüğün karşıt anlamlısı hangisidir?

- A) genç B) yaşlı C) hasta

6. Yandaki çıkarma işleminin sonucu hangi seçenekte doğru olarak verilmiştir?

- A) 313
B) 297
C) 287

480
193
-
.....

7. Aşağıda verilen çıkarma işlemlerinden hangisinde yanlılık yapılmıştır?

- A) $512 - 256 = 256$
B) $400 - 213 = 287$
C) $321 - 199 = 122$

8. Üç basamaklı, rakamları farklı en büyük tek ve üç basamaklı rakamları farklı en küçük tek doğal sayının farkı kaçtır?

- A) 884
B) 886
C) 898

9.

$$705 - 125 > \blacksquare$$

Yukarıda \blacksquare yerine yazılabilecek en büyük doğal sayı kaçtır?

- A) 581 B) 580 C) 579

10. Onlar basamağı 1 olan üç basamaklı en büyük doğal sayının 500 eksiği kaçtır?

- A) 419
B) 415
C) 411

11. Aşağıdakilerden hangisi okullarda kullanılan kaynaklardan biri değildir?

- A) elektrik
B) su
C) tahta

12. Kaynakların verimli kullanılması ile ilgili verilen aşağıdaki ifadelerden hangisi yanlıştır?
- A) Boşa yanan lambaları söndürmeliyiz.
B) Kaynaklar sınırsızdır, tükenmez.
C) Damlayan muslukları tamir ettirmeliyiz.

13. "Kaynakların verimli kullanılması ülke ekonomisine sağlar" cümlesinde boş bırakılan yere hangisi gelmelidir?
- A) katkı
B) zarar
C) sıkıntı

14.



Verilen görsellerdeki çocukların ortak özelliği nedir?

- A) Kaynakları tasarruflu kullanmamaktadırlar.
B) Temizliğe özen gösteren çocuklardır.
C) Okulunu seven çocuklardır.

15. Aşağıdakilerden hangisi, sınıfımızdaki şeref köşesinde bulunanlardan biri değildir?

- A) Atatürk Resmi
B) İstiklal Marşı
C) 10. Yıl Marşı

16. Aşağıdakilerden hangisi hareketli varlıkların yaptıkları hareketlerden biri değildir?

- A) dönme B) konuşma C) sallanma

17. Aşağıda verilen ifadelerden hangisinde hızlanma hareketinden bahsedilmektedir?

- A) Gökyüzündeki uçağın inişe geçmesi
B) Dönme dolabın dönmesi
C) Yeşil ışık yanınca arabanın hareket etmesi

18. Aşağıda verilen ifadelerden hangisi yanlıştır?
- A) Hareket canlıların ortak özelliğidir.
B) Cansız varlıklar kendiliğinden hareket edebilir.
C) Rüzgar gülü dönme hareketi yapar.




19.



Görselde verilen hayvan, tutunduğu dalda hangi hareketi yapmaktadır?

- A) yavaşlama
B) sallanma
C) hızlanma

20. Aşağıda görselleri verilen varlıklardan hangisi dönme hareketi yapmaktadır?

- A)  B) 
- C) 

CEVAPLAR

- 1 A B C
2 A B C
3 A B C
4 A B C
5 A B C
6 A B C
7 A B C
8 A B C
9 A B C
10 A B C

- 11 A B C
12 A B C
13 A B C
14 A B C
15 A B C
16 A B C
17 A B C
18 A B C
19 A B C
20 A B C